

بنك الأسئلة

العام الأكاديمي 2024 – 2025

الرشاد النموذجية للبنين	اسم المدرسة
الرياضيات	المادة
الثاني	الصّف
مراجعة الوحدة التاسعة والعاشر	نوع الاختبار

الوحدة التاسعة :

الأسئلة الموضوعية:

تعليمات: اختر الإجابة الصحيحة لكل من الأسئلة من 1 إلى 6، وذلك بوضع علامة × داخل المربع المجاور للإجابة الصحيحة:

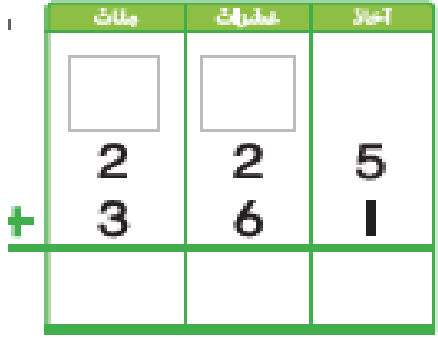
المعيار: 2.2.3		رقم الصفحة: 215	السؤال (1)
ما ناتج جمع الجملة العددية التالية ؟			
723 + 100			
A	733		
B	823		
C	833		

المعيار : 2.2.3		رقم الصفحة: 215	السؤال (2)
ما ناتج جمع الجملة العددية التالية ؟			
460 + 10			
A	400		
B	440		
C	470		

المعيار: 2.2.3		رقم الصفحة: 215	السؤال (3)
<p>ما العدد الناقص في الجملة التالية ؟</p> $285 + \square = 385$			
A	10		
B	50		
C	100		

المعيار: 2.2.3		رقم الصفحة: 215	السؤال (4)
<p>ما العدد الناقص في الجملة التالية ؟</p> $615 + \square = 625$			
A	10		
B	50		
C	100		

السؤال (5)		رقم الصفحة: 228	المعيار: 2.2.3
اي من التالي يمثل ناتج الجمع للجملة العددية التالية؟ $238 + 164$			
A	$300 + 90 + 12$		
B	$200 + 30 + 8$		
C	$100 + 60 + 4$		

السؤال (6)		رقم الصفحة: 246	المعيار: 2.2.2
أي مما يلي يمثل ناتج جمع الجملة العددية التالية			
			
A	376		
B	466		
C	586		

ما ناتج جمع الجملة العددية التالية ؟


	مئات	عشرات	آحاد
	<input type="text"/>	<input type="text"/>	
	3	7	2
+	2	8	1

A 376

B 466

C 586

تعليمات: عند الإجابة على الأسئلة من 15 إلى 16، اكتب إجاباتك في المساحات المخصصة لذلك.

السؤال (8)	رقم الصفحة: 214	المعيار: 2.2.3
<p>جد ناتج الجمع . استعمل الحساب الذهني .</p> <div style="display: flex; align-items: center; justify-content: center;">  <div style="margin-left: 20px;"> <p>10 مضافاً إلى</p> <p>100 مضافاً إلى</p> </div> </div> <div style="margin-top: 20px;"> <p>_____ + _____ = _____</p> <p>_____ + _____ = _____</p> </div>		

السؤال (9)	رقم الصفحة: 236																					
المعيار: 2.2.2																						
<p>جد ناتج جمع . استعمل نواتج الجمع الجزئية لتوضيح عملك .</p> <p style="text-align: center; font-size: 1.2em;">$365 + 248$</p> <div style="display: flex; align-items: flex-start; margin-top: 20px;"> <table border="1" style="border-collapse: collapse; text-align: center; width: 200px;"> <thead> <tr style="background-color: #92d050;"> <th style="padding: 5px;">آحاد</th> <th style="padding: 5px;">عشرات</th> <th style="padding: 5px;">مئات</th> </tr> </thead> <tbody> <tr> <td style="padding: 5px;">5</td> <td style="padding: 5px;">6</td> <td style="padding: 5px;">3</td> </tr> <tr> <td style="padding: 5px;">8</td> <td style="padding: 5px;">4</td> <td style="padding: 5px;">2</td> </tr> <tr> <td style="padding: 5px;"> </td> <td style="padding: 5px;"> </td> <td style="padding: 5px;"> </td> </tr> <tr> <td style="padding: 5px;"> </td> <td style="padding: 5px;"> </td> <td style="padding: 5px;"> </td> </tr> <tr> <td style="padding: 5px;"> </td> <td style="padding: 5px;"> </td> <td style="padding: 5px;"> </td> </tr> <tr> <td style="padding: 5px;"> </td> <td style="padding: 5px;"> </td> <td style="padding: 5px;"> </td> </tr> </tbody> </table> <div style="margin-left: 10px;"> <p style="margin-top: 0;">+</p> <p style="margin-top: 0;">: المئات</p> <p style="margin-top: 0;">: العشرات</p> <p style="margin-top: 0;">: الآحاد</p> <p style="margin-top: 0;">= المجموع</p> </div> </div>		آحاد	عشرات	مئات	5	6	3	8	4	2												
آحاد	عشرات	مئات																				
5	6	3																				
8	4	2																				

السؤال (10)

رقم الصفحة: 236

المعيار: 2.2.2

جد ناتج الجمع . استعمل قوالب القيمة المنزلية لتوضيح عملك .

مئات	عشرات	آحاد
3	1	5
4	2	7
+		

مئات	عشرات	آحاد

السؤال (11)

رقم الصفحة: 234

المعيار: 2.2.2

في يوم الجمعة ذهب 354 شخصا إلى شاطئ البحر.

وفي يوم السبت ذهب 551 شخص إلى نفس الشاطئ.

ما العدد الكلي للأشخاص الذين ذهبوا إلى الشاطئ؟

مئات	عشرات	آحاد
+		

..... شخص

عد سالم 328 كرة زجاجية .

وعد عبد الله 100 كرة زجاجية أكثر من سالم .

كم كرة زجاجية عد عبد الله ؟

آحاد	عشرات	مئات

+

.....كرة زجاجية

الوحدة العاشرة :

الأسئلة الموضوعية:

تعليمات: اختر الإجابة الصحيحة لكل من الأسئلة من 1 إلى 7، وذلك بوضع علامة × داخل المربع المجاور للإجابة الصحيحة:

السؤال (1)		رقم الصفحة: 255	المعيار: 2.2.3
ما ناتج طرح الجملة العددية التالية ؟ $520 - 100 =$			
A	620		
B	530		
C	420		

السؤال (2)		رقم الصفحة: 215	المعيار: 2.2.3
ما ناتج طرح الجملة العددية التالية ؟ $738 - 10$			
A	728		
B	823		
C	833		

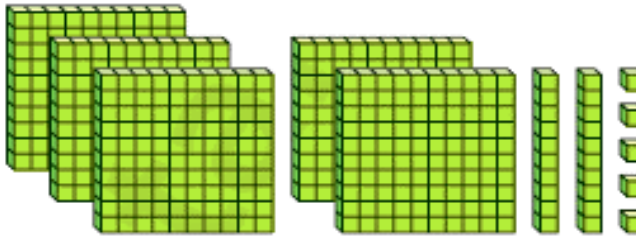
المعيار: 2.2.3		رقم الصفحة: 255	السؤال (3)
ما العدد الناقص في الجملة التالية ؟			
$801 - \square = 701$			
A	10		
B	50		
C	100		

المعيار: 2.2.3		رقم الصفحة: 255	السؤال (4)
ما العدد الناقص في الجملة التالية ؟			
$657 - \square = 647$			
A	10		
B	50		
C	100		

المعيار: 2.2.2		رقم الصفحة: 270	السؤال (5)																		
ما ناتج طرح الجملة العددية التالية ؟																					
<table><tr><th>مئات</th><th>عشرات</th><th>آحاد</th></tr><tr><td><div></div></td><td><div></div></td><td><div></div></td></tr><tr><td>5</td><td>7</td><td>8</td></tr><tr><td>2</td><td>6</td><td>4</td></tr><tr><td colspan="3"><div>-</div></td></tr><tr><td></td><td></td><td></td></tr></table>				مئات	عشرات	آحاد	<div></div>	<div></div>	<div></div>	5	7	8	2	6	4	<div>-</div>					
مئات	عشرات	آحاد																			
<div></div>	<div></div>	<div></div>																			
5	7	8																			
2	6	4																			
<div>-</div>																					
A	314																				
B	376																				
C	586																				

المعيار: 2.2.2		رقم الصفحة: 270	السؤال (6)																		
ما ناتج طرح الجملة العددية التالية ؟																					
<table><tr><th>مئات</th><th>عشرات</th><th>آحاد</th></tr><tr><td><div></div></td><td><div></div></td><td><div></div></td></tr><tr><td>6</td><td>2</td><td>3</td></tr><tr><td>3</td><td>7</td><td>1</td></tr><tr><td colspan="3"><div>-</div></td></tr><tr><td></td><td></td><td></td></tr></table>				مئات	عشرات	آحاد	<div></div>	<div></div>	<div></div>	6	2	3	3	7	1	<div>-</div>					
مئات	عشرات	آحاد																			
<div></div>	<div></div>	<div></div>																			
6	2	3																			
3	7	1																			
<div>-</div>																					
A	145																				
B	252																				
C	365																				

تعليمات: عند الإجابة على الأسئلة من 15 إلى 16، اكتب إجاباتك في المساحات المخصصة لذلك.

السؤال (8)	رقم الصفحة: 254	المعيار: 2.2.3
<p>جد ناتج الطرح . استعمل الحساب الذهني .</p>		
 <div style="display: flex; justify-content: center; align-items: center; gap: 20px;"> <div> <p>10 مَطْرُوحًا مِنْ</p> <p>100 مَطْرُوحًا مِنْ</p> </div> <div style="text-align: right;"> <p>_____</p> <p>_____</p> </div> </div>		

السؤال (11)	رقم الصفحة: 267	المعيار: 2.2.2																		
<p>جد ناتج الطرح. استعمل قوالب القيمة المنزلية لتوضيح عملك ؟.</p>																				
<div style="display: flex; justify-content: space-around; align-items: flex-start;"> <table border="1" style="border-collapse: collapse; text-align: center;"> <thead> <tr style="background-color: #92d050;"> <th style="padding: 5px;">آحاد</th> <th style="padding: 5px;">عشرات</th> <th style="padding: 5px;">مئات</th> </tr> </thead> <tbody> <tr> <td style="padding: 10px;">8</td> <td style="padding: 10px;">3</td> <td style="padding: 10px;">4</td> </tr> <tr> <td style="padding: 10px;">2</td> <td style="padding: 10px;">6</td> <td style="padding: 10px;">1</td> </tr> <tr> <td style="border-top: 1px solid black; height: 40px;"></td> <td style="border-top: 1px solid black; height: 40px;"></td> <td style="border-top: 1px solid black; height: 40px;"></td> </tr> </tbody> </table> <table border="1" style="border-collapse: collapse; text-align: center;"> <thead> <tr style="background-color: #92d050;"> <th style="padding: 5px;">آحاد</th> <th style="padding: 5px;">عشرات</th> <th style="padding: 5px;">مئات</th> </tr> </thead> <tbody> <tr style="height: 150px;"> <td></td> <td></td> <td></td> </tr> </tbody> </table> </div>			آحاد	عشرات	مئات	8	3	4	2	6	1				آحاد	عشرات	مئات			
آحاد	عشرات	مئات																		
8	3	4																		
2	6	1																		
آحاد	عشرات	مئات																		

لدى علي 517 بطاقة كرة سلة .

ولدى خالد 263 بطاقة كرة سلة .

بكم يزيد عدد بطاقات علي عن عدد بطاقات خالد؟

آحاد	عشرات	مئات

..... بطاقة اكثر

في مزرعة 319 حيوانا .

136 منها خيول .

ما عدد الحيوانات التي ليست من الخيول ؟

آحاد	عشرات	مئات

..... من الحيوانات ليست خيول